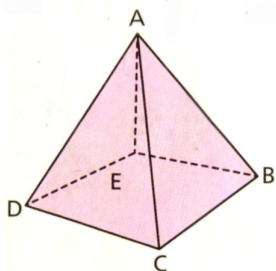


Exercice M12-1 = exercice 2 p.239



Noms des sommets

.....

Noms des faces

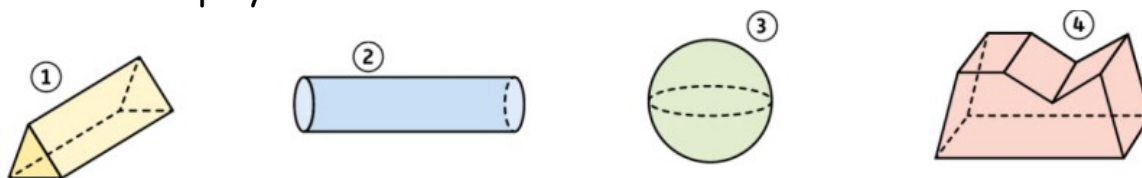
.....

Noms des arêtes (attention ce sont des segments!)

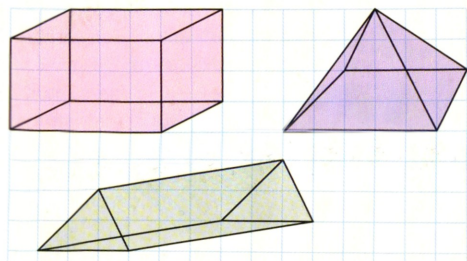
[.....] et

Exercice M12-2 = exercice 3 p.239

Entourer les polyèdres.



Exercice M12-3 = exercice 4 p.239

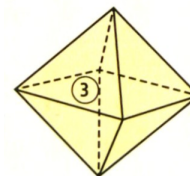
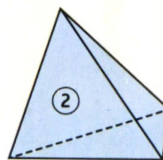
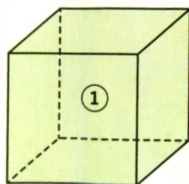


Voici des représentations
en perspective cavalière.

Repasser en fluo les arêtes
« cachées ».

Exercice M12-4 = exercice 5 p.239

Compléter



Nombre de faces			
Nombre d'arêtes			
Nombre de sommets			