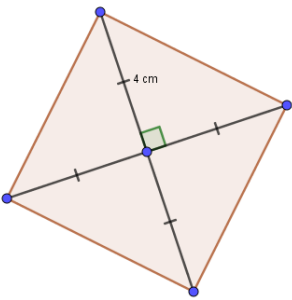
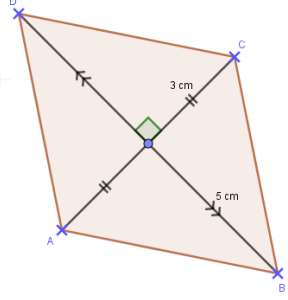
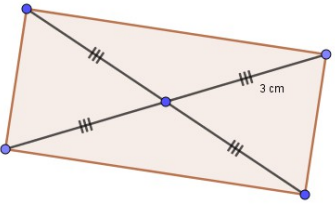


**Chap 30 : Exercices maison CARACTERISER ET CONSTRUIRE DES QUADRILATERES
= NOTION 45 DU LIVRE**

Exercice M30-1

Compléter ce tableau.

| | | | |
|----------------------------|---|--|---|
| Figure |  |  |  |
| Nature | | | |
| Justification de la nature | <p>.....</p> <p>.....</p> <p>.....</p> | <p>.....</p> <p>.....</p> <p>.....</p> | <p>.....</p> <p>.....</p> <p>.....</p> |

Exercice M30-2

Avec les instruments, construire les figures de l'exercice précédent.

Laisser les traits de construction.