

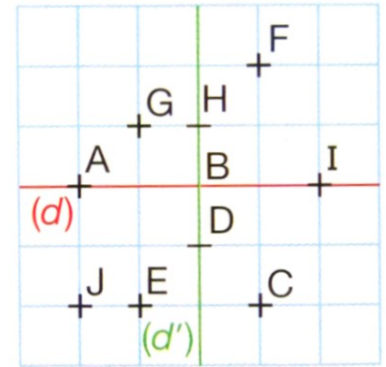
Exercice C34-1 ★ Reconnaître un symétrique

1- Quel est le symétrique des points suivants par rapport à (d) ?

a- C ? b- A ? c- H ? d- B ?

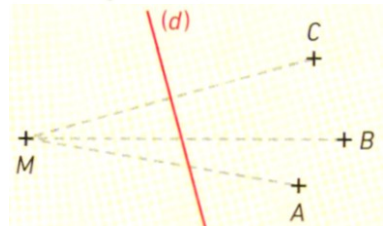
2- Quel est le symétrique des points suivants par rapport à (d') ?

a- C ? b- A ? c- H ? d- B ?



Exercice C34-2 ★ Reconnaître un symétrique

Quel semble être le symétrique de M par rapport à (d) ?



Exercice C34-3 ★ Reconnaître un symétrique

Entoure les figures qui sont symétriques par rapport à la droite rouge.

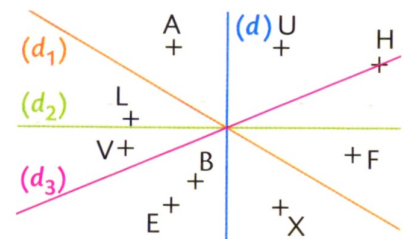


Exercice C34-4 ★★ Reconnaître un symétrique

1- A et U sont symétriques par rapport à la droite

2- L et A sont symétriques par rapport à la droite

3- U et sont symétriques par rapport à la droite (d₂).

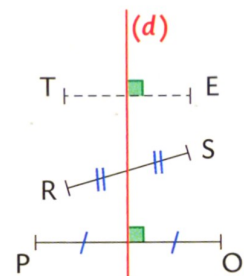


Exercice C34-5 ★ Reconnaître un symétrique

1- T et E sont symétriques par rapport à la droite (d) : VRAI - FAUX

2- R et S sont symétriques par rapport à la droite (d) : VRAI - FAUX

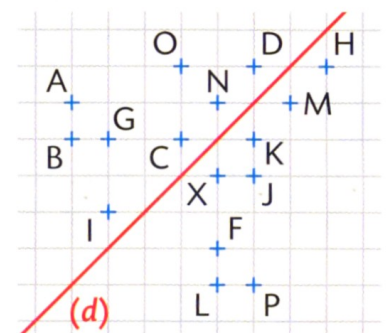
3- P et O sont symétriques par rapport à la droite (d) : VRAI - FAUX



Exercice C34-6 ★★ Reconnaître un symétrique

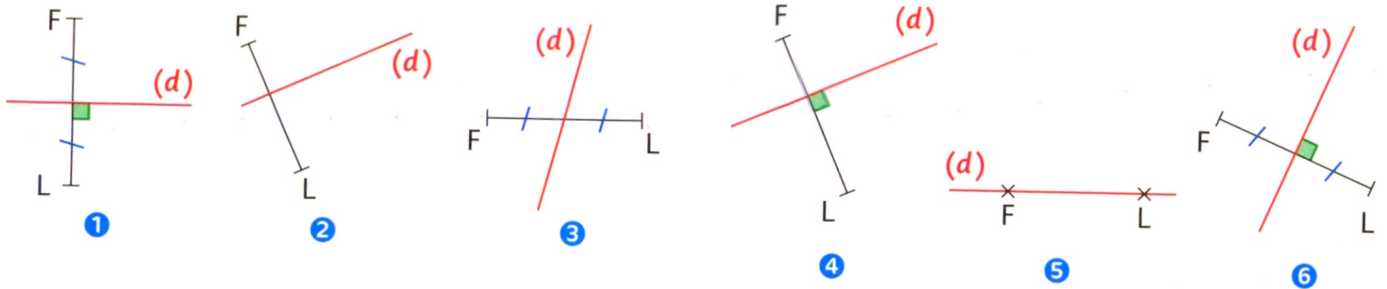
Quel est le symétrique des points suivants par rapport à (d) ?

a- G ? b- B ? c- M ? d- X ?



Exercice n°34-7

Entoure les cas où F et L sont symétriques par rapport à la droite (d).



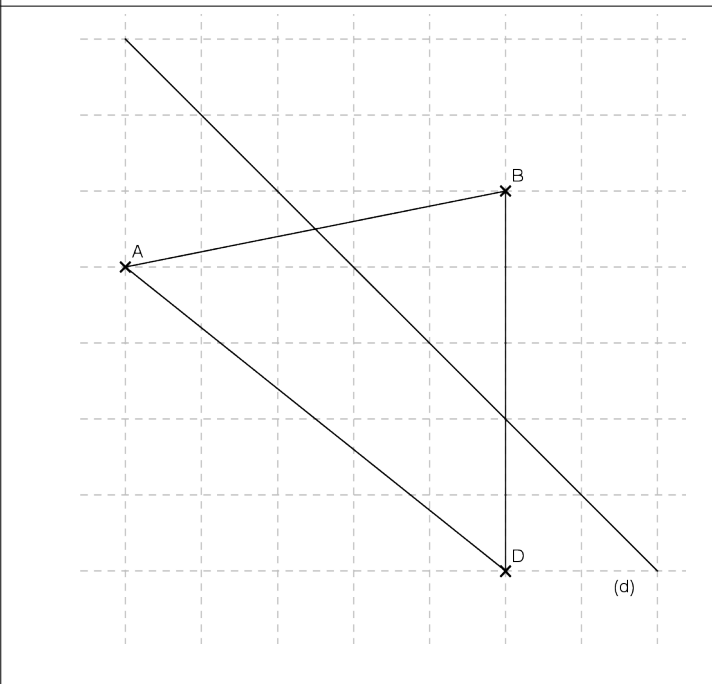
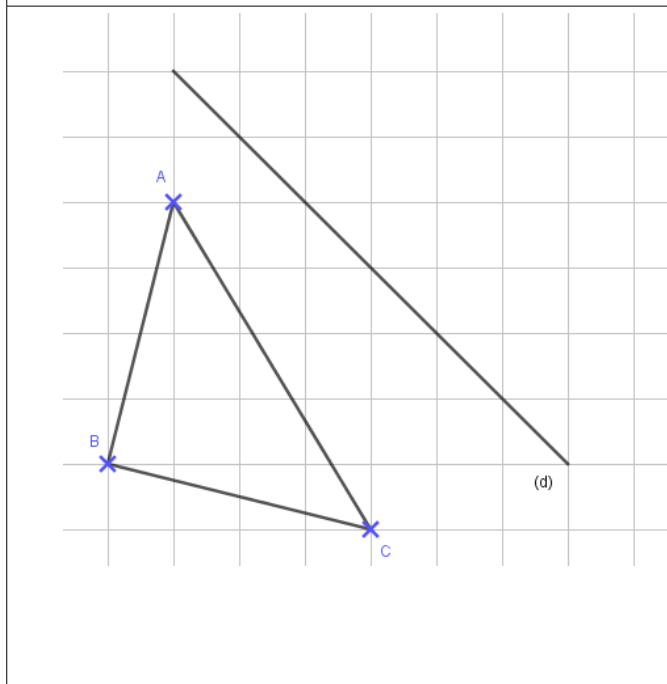
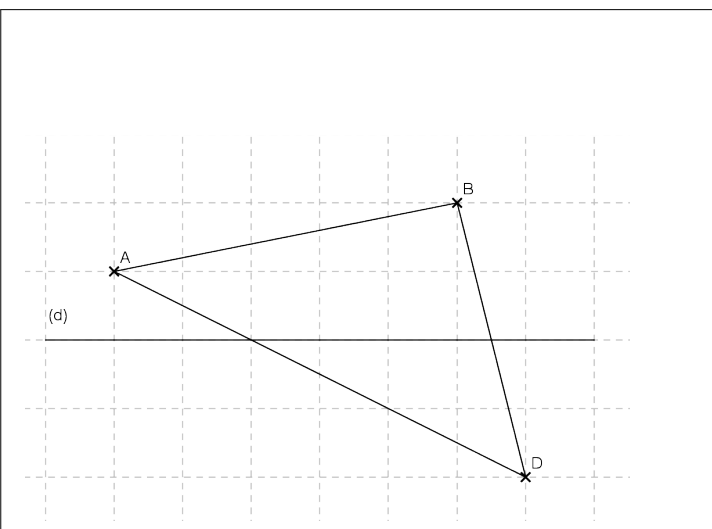
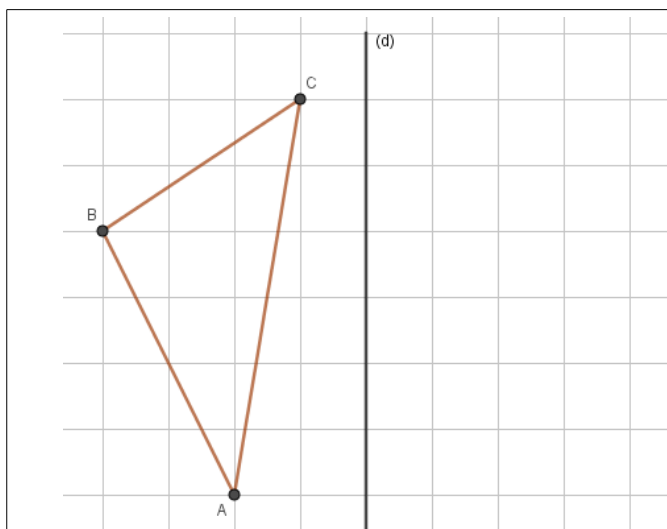
Exercice n°34-8

Dans chaque cas, place les symétriques des points A, B, C et D par rapport à la droite (d).

On les appellera A', B', C' et D'.

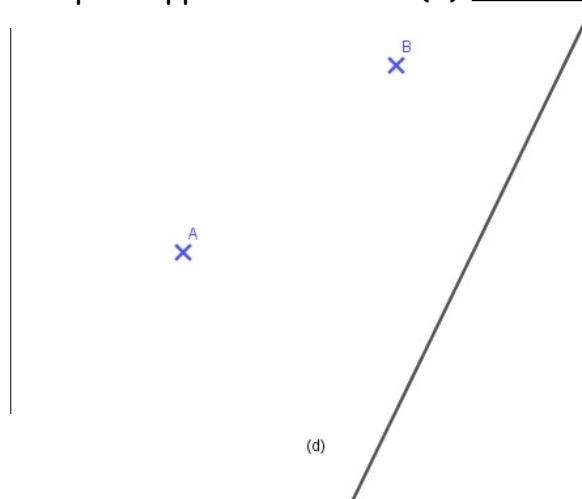
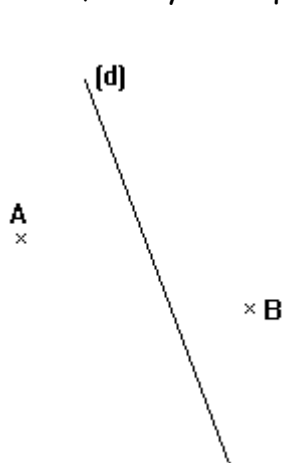
Exercice n°34-9

Dans chaque cas, construis le symétrique de la figure par rapport à la droite (d).



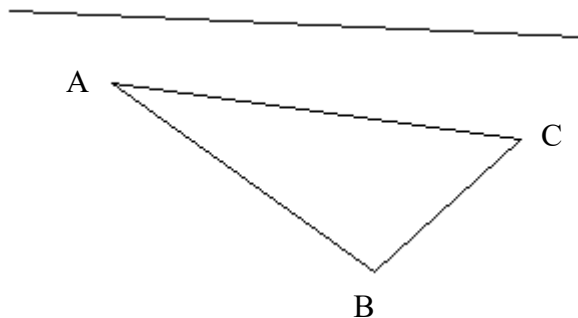
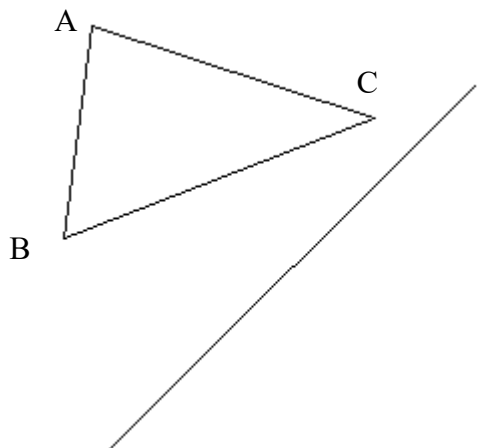
Exercice n°34-10

Construis A' et B', les symétriques des points A et B par rapport à la droite (d) avec l'équerre.



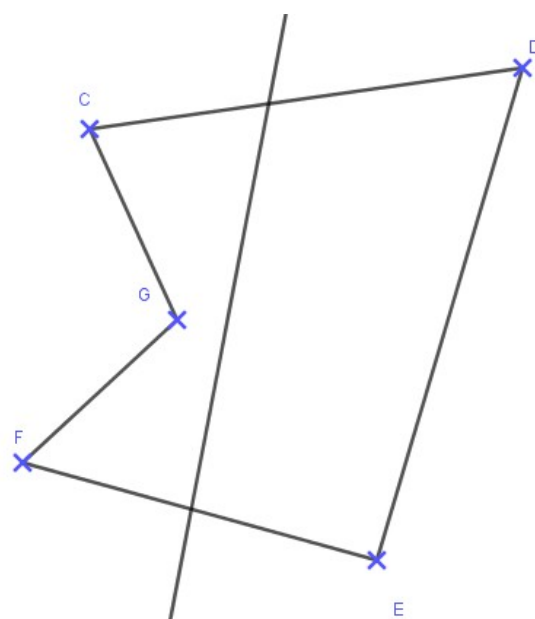
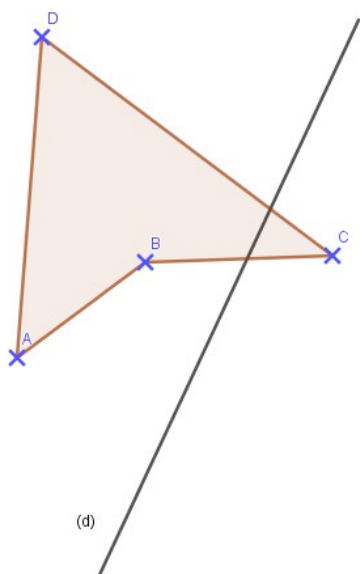
Exercice n°34-11

Construis les figures symétriques par rapport à la droite (d) avec l'équerre.



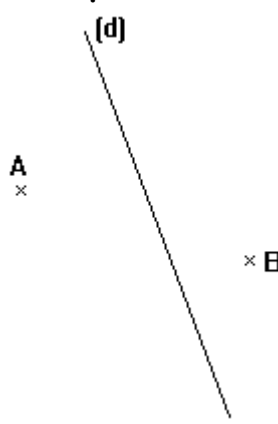
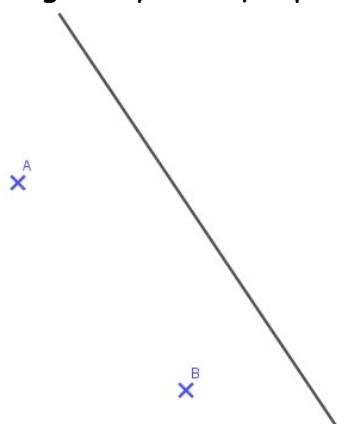
Exercice n°34-12

Dans chaque cas, construis les figures symétriques par rapport à la droite (d) avec l'équerre.



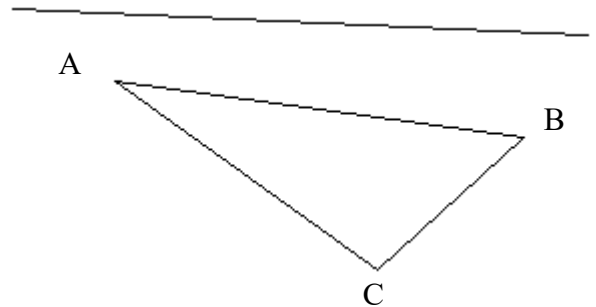
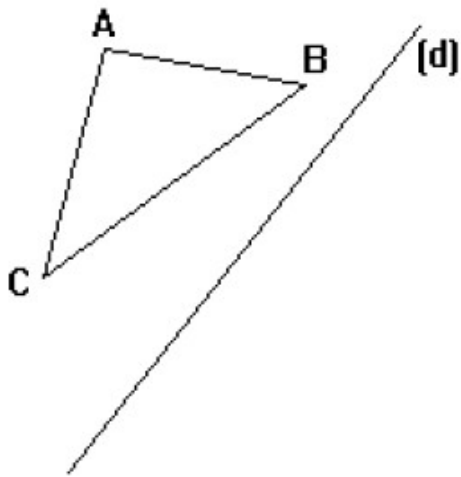
Exercice n°34-13

Construis la figure symétrique par rapport à la droite (d) avec le compas.



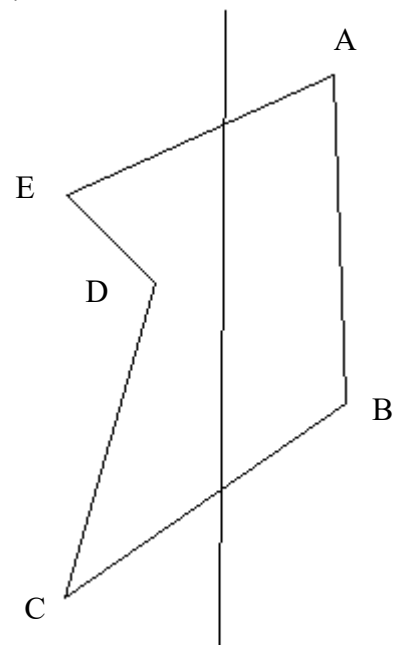
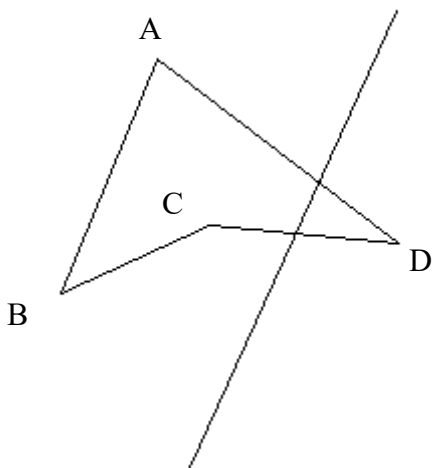
Exercice n°34-14

Construis les figures symétriques par rapport à la droite (d) avec le compas.



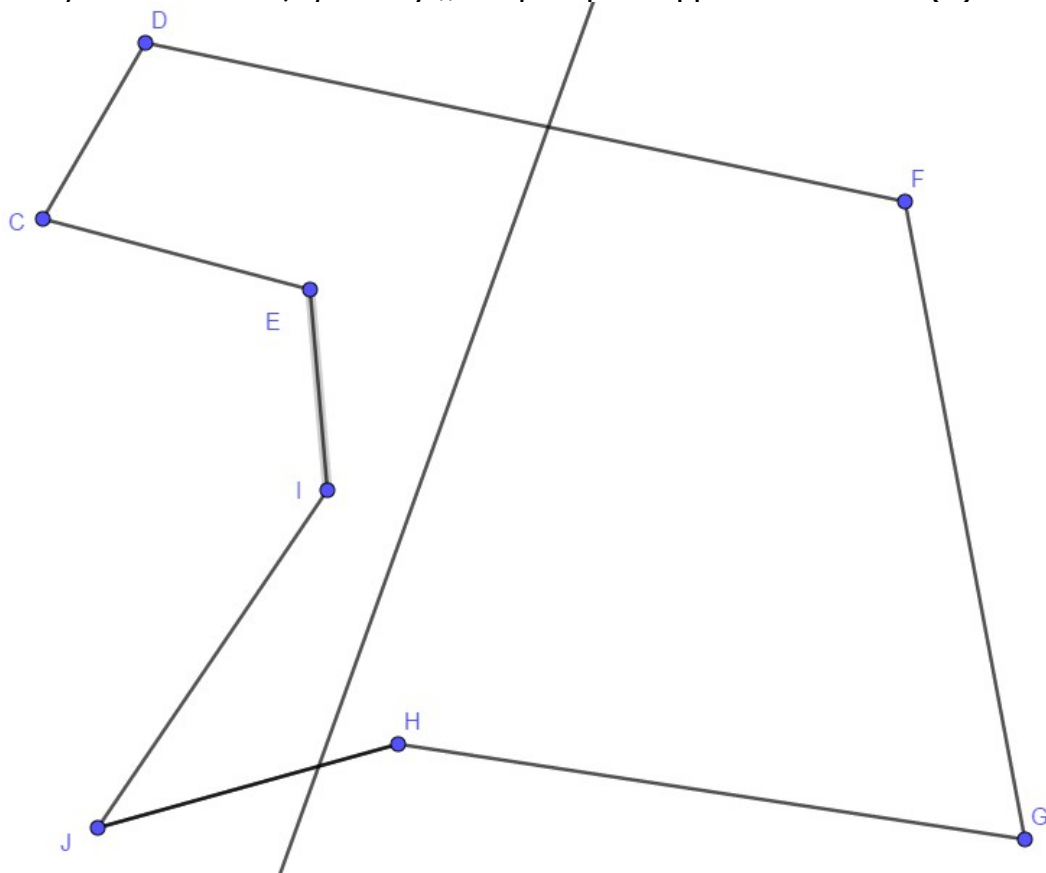
Exercice n°34-15

Construis les figures symétriques par rapport à la droite (d) avec le compas.



Exercice n°34-16

Dans chaque cas, construis les figures symétriques par rapport à la droite (d) avec l'équerre.



Exercice n°34-17

Construis les figures symétriques par rapport à la droite (d) avec le compas.

