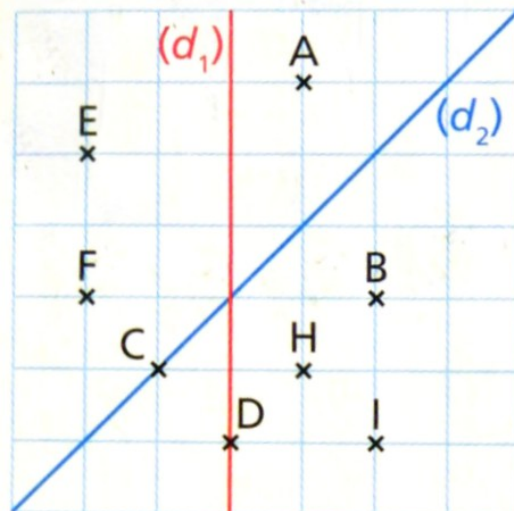
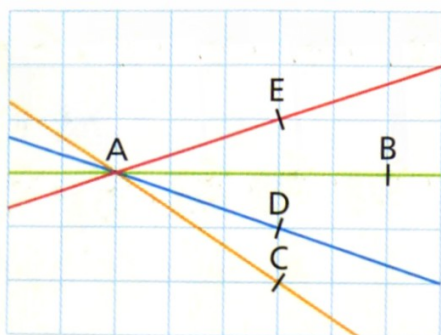


Exercice M34-1 = Exercice n°1 p. 225

- a- H est le symétrique de par rapport à (d_1) .
- b- F est le symétrique de par rapport à (d_2) .
- c- F est le symétrique de B par rapport à (.....).
- d- est le symétrique de E par rapport à (d_2) .

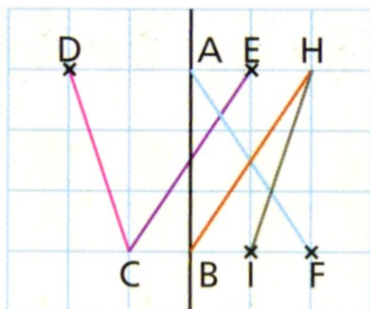


Exercice M34-2 = Exercice n°3 p. 225



La droite (.....) est symétrique à la droite (.....)
par rapport à la droite (.....).

Exercice M34-3 = Exercice n°4 p. 225



Le segment [.....] est symétrique du segment [.....]
par rapport à la droite (AB).

Exercice M34-4 = Exercice n°5 p. 225

