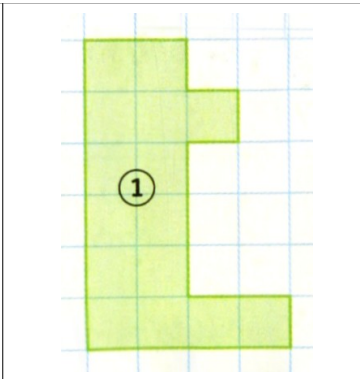
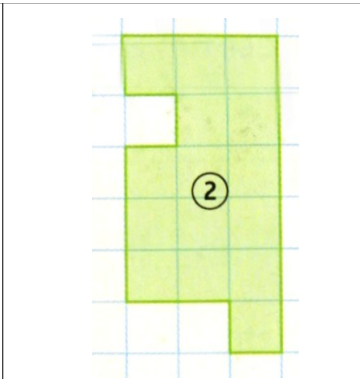



Exercice M36-1 = exercice n°11 p. 133

Compléter le tableau.

			
Périmètre			
Aire			

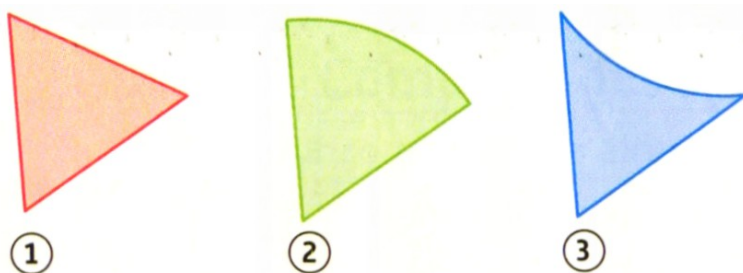
Exercice M36-2 = exercice n°12 p. 231

Enclos			
Périmètre			
Aire			

1 - Dans quel enclos les poules auront le plus d'espace ?

2 - Dans quel enclos faudra-t-il le plus de grillage ?

Exercice M36-3 = exercice n°53 p. 140



Ces 3 figures ont été réalisées à partir d'un même triangle équilatéral.

1- Classer ces figures par ordre croissant de leurs aires :

2- Comparer les périmètres des figures 2 et 3 : P 2 P 3