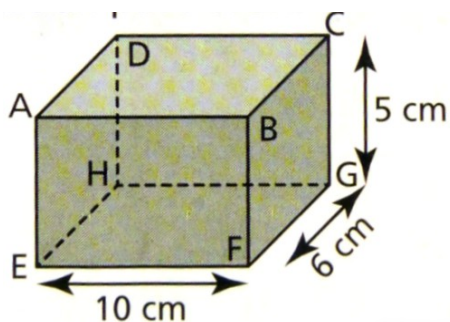


Exercice M48-1 = exercice 10 p.241

Compléter.



2 segments parallèles : [.....] et [.....]

3 angles droits de sommet F : et et

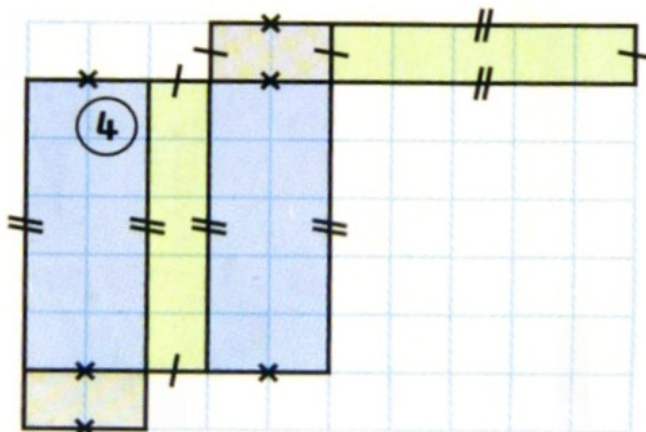
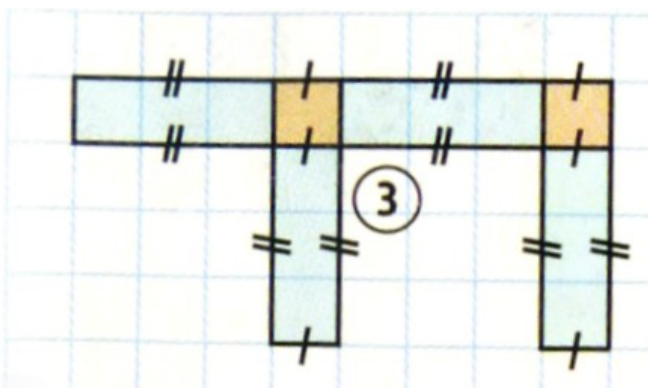
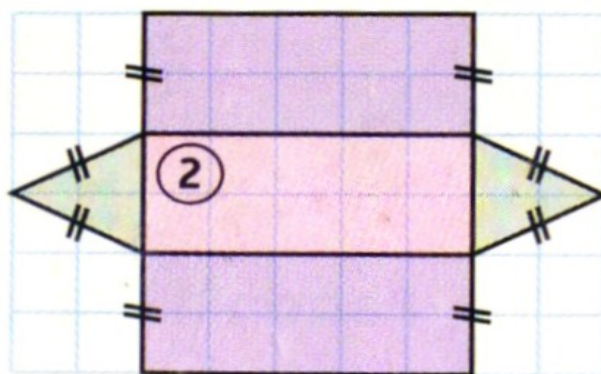
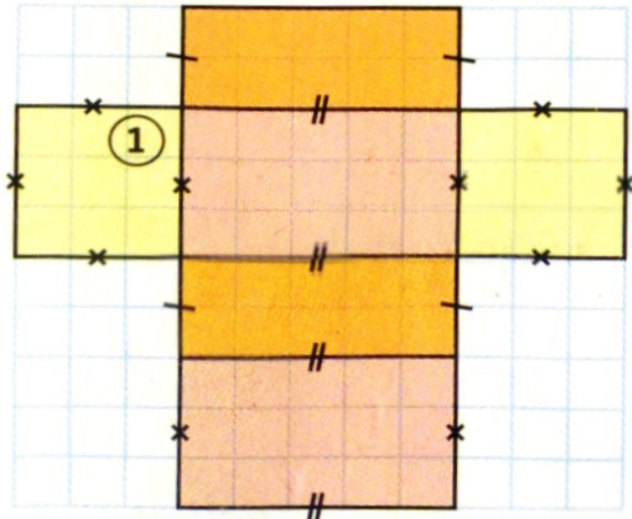
Une arête perpendiculaire à [EB] :

2 faces opposées :

2 faces perpendiculaires :

Exercice M48-2 = exercice 14 p.241

Entourer les patrons représentant ceux d'un pavé droit



Exercice M48-3 = exercice 13 p.241

Trace un patron de cube de 4 cm de côté.

UNIQUEMENT à main levée, avec le codage

Exercice M48-4 = exercice 12 p.241

Trace un patron de cette plaquette de beurre.

UNIQUEMENT à main levée, avec le codage

