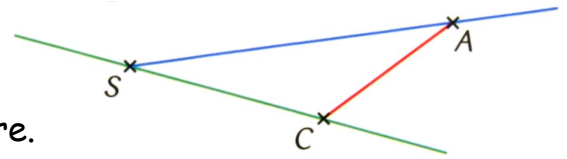


Exercice C10-1 ★

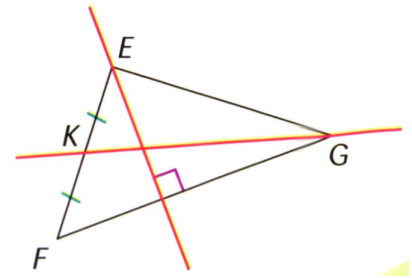
Rédiger le programme de construction de cette figure.



Exercice C10-2 ★★

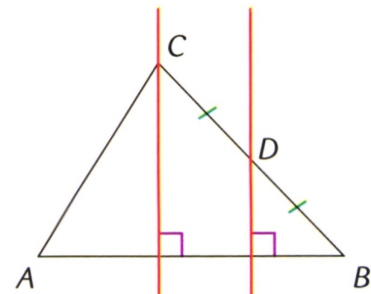
Compléter la rédaction de ce programme de construction :

- tracer un triangle EFG.
-



Exercice C10-3 ★★

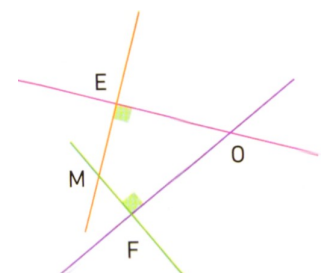
Rédiger le programme de construction de cette figure.



Exercice C10-4 ★★

Compléter la rédaction de ce programme de construction :

- placer 3 points E, O et F
-



Exercice C10-5 ★★★

On sait que $(d_1) // (AC)$, $(d_2) // (AB)$ et $(d_3) // (BC)$.

Rédiger le programme de construction de cette figure.

